

2020年度

2月1日 午前
2科・4科 入試

社 会
(25分)

注 意

- 1 試験開始の合図があるまで、この冊子の中を見てはいけません。
- 2 問題は□1から□2まで、9ページにわたって印刷してあります。
- 3 解答用紙には、受験番号と氏名を書きなさい。
- 4 解答はすべて解答用紙に書き、解答用紙を提出しなさい。
- 5 人名・地名や社会科で学習する用語は、漢字で答えなさい。

かえつ有明中学校

1 次の文章は、かえつ有明中学校での生徒の会話です。会話文を読み、あとの問いに答えなさい。

有夫：今年の東京オリンピック・パラリンピックへ向けて江東区ではたくさんの施設が建設されているね。

明子：うん。かえつ有明中学校の近くでもバレーボール会場の『有明アリーナ』や水泳会場の『アクアティクスセンター』などを見ることが出来るよ。

有夫：①たくさんの人が来てくれそうで楽しみだね。でも、移動・輸送や宿泊の準備は大丈夫かな。

明子：湾岸線などの②高速道路も通っているし、③市民が宿泊所を提供することも増えてきたよ。

有夫：1964年の東京オリンピックのときと比べて日本の経済はさらに発展して、国際社会での地位も向上したからそこにも注目してほしいね。

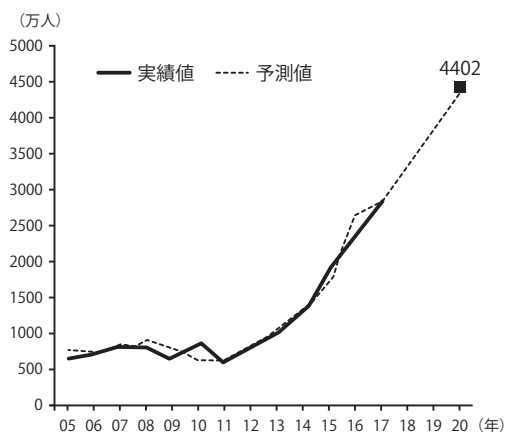
明子：世界的な話し合いの場で、日本がどのような役割を果たすかも注目されているよ。たとえば、④国連で世界の代表たちが議論して決めたSDGs（持続可能な開発目標）がどれくらい達成できているかはとても重要だね。

有夫：それについて、とくに日本の課題は⑤男女の平等じゃないかな。OECDが発表した男女の賃金格差のデータを見るとほぼ最低レベルだからね。

明子：このような問題を解決していくことで、日本が世界の中で誇れる国になれるんだね。

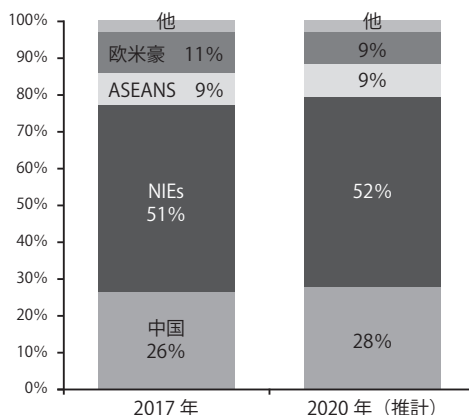
問1 下線部①について、図表1と図表2を見て、あとの問いに答えなさい。

図表1 訪日外国人数の試算値



※横軸は、2005～2020年を表しています

図表2 訪日外国人数の試算値の内訳



※欧米豪はヨーロッパ・アメリカ・オーストラリア

(みずほ総研(2018年)、みずほりポート「タイプ別、市町村別にみたホテル客室不足の試算」より)

(1) 2020年の欧米豪からの観光客はおよそ何人になると推定されていますか。もっとも近いものを、次のア～エより1つ選び、記号で答えなさい。

ア 400万人 イ 450万人 ウ 500万人 エ 550万人

(2) 図表2の「NIEs」はおもにアジアの新興工業経済地域を表しています。NIEsにあてはまらないものを、次のア～エより1つ選び、記号で答えなさい。

ア 台湾 イ フィリピン ウ シンガポール エ 韓国

(3) 図表1と図表2の説明として誤っているものを、次のア～エより1つ選び、記号で答えなさい。

- ア 図表1によると、訪日外国人実測値が最も少ないのは2011年となっている。少なくなった原因のひとつとして東日本大震災の影響が考えられる。
- イ 2017年の訪日外国人実測値は約3000万人で、そのうち半数の約1500万人程度はNIEs出身者である。
- ウ 2017年の訪日外国人実測値と2020年の訪日外国人予測値の割合を比較すると約1.5倍になっているのにあわせて、中国からの訪日外国人の割合も約1.5倍になると予測されている。
- エ 2020年の予測値では、2017年と比べて中国からの訪日客の割合は増えると予測されているが、欧米豪の割合が2017年から2020年にかけて割合が減ると予測されている。

問2 下線部②について、あとの問いに答えなさい。

(1) 東京の高速道路は「首都高速道路（首都高）」と呼ばれ、1964年の東京オリンピックを目指して首都圏^{しよとけん}を中心に整備されました。首都高速道路の説明として正しいものを、次のア～エより1つ選び、記号で答えなさい。

- ア 東京都内だけでなく、神奈川県、埼玉県、千葉県にも通じている。
- イ 流通の活性化のため、全区間で無料化されている。
- ウ 東京湾を横断するアクアラインは、神奈川県の川崎市と、千葉県の市原市を結んでいる。
- エ 休憩やトイレのためにPA（パーキングエリア）やSA（サービスエリア）がもうけられているが、SA（サービスエリア）は質の高いサービスを提供するため入場料が必要である。

- (2) 九州を縦断^{じゅうだん}する九州自動車道は、九州各地の半導体工場と空港を結んでいます。九州は世界でも有数の半導体生産地となっていますが、半導体の生産地として付けられた九州の別名を、次のア～エより1つ選び、記号で答えなさい。

ア シリコンバレー イ シリコンロード
ウ シリコンアイランド エ シリコンシティ

- 問3 下線部③について、2018年に住宅宿泊事業法が制定され、一般の住宅でも料金をとって宿泊客を泊めることが可能になりました。旅行者が旅館ではなく一般住宅に泊まることを何と言いますか。漢字2文字で答えなさい。

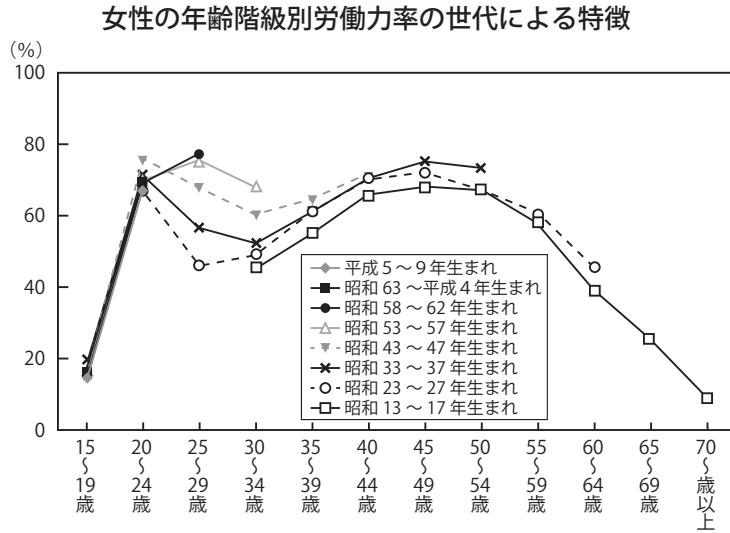
- 問4 下線部④について、SDGsの議論が盛んになったのは2012年の「国連持続可能な開発会議」通称「リオ+20」からです。「リオ+20」は、その20年前にリオ・デ・ジャネイロで行われた「国連環境開発会議」で決められたことを改めて確認して発展させるために同じ都市で開かれました。あとの問いに答えなさい。

- (1) リオ・デ・ジャネイロという都市が存在するのは何という国ですか、その国の名前を答えなさい。

- (2) 「国連環境開発会議」に最も関係の深い言葉を、次のア～エより1つ選び、記号で答えなさい。

ア 宇宙船地球号 イ 地球サミット
ウ スtockホルム宣言 エ かけがえのない地球

問5 下線部⑤について、次のグラフと文章を読んで、あとの問いに答えなさい。



(内閣府資料より)

このグラフは女性の「労働力率」すなわち仕事に就いている割合を年齢別にまとめたものです。女性は、24歳までと比べて、25歳～30歳代は仕事に就いている割合がおおむね下がっています。これは出産などで仕事をやめることが多いからです。仕事をやめると収入はなくなりますし、昇進して収入が増えることもありません。しかし男性は仕事を続け、昇進していくので、賃金格差が広がるのです。また、再就職した女性の平均賃金が低くなる理由は、子育て中はとくに1日中仕事をするのがむずかしく、子どもの送りむかえや家事のために昼間しか働けないということが考えられます。

(1) 上の文章に関する次の文中の にあてはまる言葉を答えなさい。

『近年、 のために仕事を休むことの出来る「 休業」の取得率は、女性が80%を超えているのに対し、男性ではわずか5～6%程度です。』

(2) 日本の40歳代女性と仕事について述べたもののうち誤っているものを、次のア～エより1つ選び、記号で答えなさい。

- ア 20歳代後半で生んだ子どもが大きくなるにつれて、仕事に復帰しはじめるので、30歳代～40歳代の労働力率は上昇している。
- イ 出産などで10年以上ぶりに仕事を始めても、その間ずっと仕事をやめなかった男性にくらべて給与が低くなる。
- ウ 子どもの面倒を見やすくするために、数時間で終わるパートタイムを利用し昼に少しだけ働く場合などが多くなっている。
- エ 都市部には核家族が多いので、いっしょに住んでいる祖父や祖母に子どもを預けて面倒を見てもらえるから仕事を再開しやすくなる。

問6 下線部⑤について、あとの問いに答えなさい。

(1) 国民の代表である国会議員の男性と女性の割合は、本来ならば国民の男性と女性の割合とほぼ同じになるはずですが、2019年の日本の女性衆議院議員の割合はどれくらいですか。もっとも近い数字を、次のア～エより1つ選び、記号で答えなさい。

- ア 5% イ 10% ウ 20% エ 40%

(2) 1999年(平成11年)に男女の平等を目指して施行されたものを、次のア～エより1つ選び、記号で答えなさい。

- ア 労働関係調整法 イ 男女雇用機会均等法
- ウ 女子差別撤廃条約 エ 男女共同参画社会基本法

2 次の文章を読み、あとの問いに答えなさい。

昨年(しゆんねん)の4月、東京大学の入学式で同大学名誉教授(めいよこうじょう)の上野千鶴子(しゆくじ)さんの祝辞(しゆくじ)が大きな話題(わだい)となりました。祝辞(しゆくじ)では東京医科大(とうきょういこくだ)の入試(にゅうし)における女子差別問題(じよしにべいりつもんたい)にふれ、大学入学(だいがくにゅうがく)で喜ぶ新入生(しんにゅうせい)に「あなただけ(ただ)の努力(なうり)でここまで来た(きた)わけではない」ことを示(し)し、東京大学内(とうきょうだいがくうち)のジェンダー問題(じェんだーもんたい)を明らかに(あきらかに)しました。そこで、今回は日本(にっぽん)の女性(にょせい)についての歴史(れきし)を見ていきます。

- [I] 3世紀(さんせいき)に、①女王卑弥呼(じゆうおうひいこ)はまじないによる政治(よるせいち)で、30あまりの国(くに)を従(したが)えていました。また、中国(ちゆうごく)に使い(つかい)を送(おく)り、中国(ちゆうごく)の皇帝(てんてい)から「親魏倭王(しんゑいおう)」の称号(しやうごう)を授(たま)けられました。
- [II] 古代(こくだい)には、聖徳太子(せいとくたいし)を摂政(せつせい)とした推古天皇(すいこてんかう)、②天武天皇(てんぶてんかう)の皇后(こうごう)で天武天皇(てんぶてんかう)の死後(しご)に藤原京(ふじわらきやう)をきずいた持統天皇(じとうてんかう)、平城京(へいじやうきやう)をつくった元明天皇(げんめいてんかう)など、③多くの女性(にょせい)の天皇(てんかう)が活躍(かつやく)しました。
- [III] 平安時代(へいあんじだい)には、仮名文字(かみなもじ)がつくり出(だ)され、④紫式部(むらさきしきぶ)など⑤女性(にょせい)の文学者(ぶんがくしや)が活躍(かつやく)しました。
- [IV] 源頼朝(げんらいぢょう)の妻(つま)である⑥北条政子(きたじょうまさこ)は、後鳥羽上皇(ごうとよ上かう)が幕府(ばくぷ)を倒(た)そうと北条義時(きたじょうよとき)を討(う)つように命令(めいれい)を出(だ)したとき、東国(とうこく)の武士(ぶし)たちに頼朝(らいぢょう)の恩(おん)を説(と)いて武士(ぶし)の団結(だんけつ)をはかり、上皇方(かみづかた)をやぶりました。北条政子(きたじょうまさこ)が活躍(かつやく)したように、⑦この時代(じだい)の武士(ぶし)の社会(しやかい)では女性(にょせい)の地位(ちゐ)が比較(ひかく)的高(たか)いものでした。
- [V] 江戸時代(えどじだい)の⑧参勤交代(さんきんこうたい)では、大名(だいみょう)の妻子(しよし)は人質(にんしやく)として江戸(えど)に置(お)かれました。そのため⑨関所(かんじよ)では「入鉄砲(にゅうてつぱう)に出女(だしよ)」をきびしく取り(と)りしまりました。
- [VI] 大日本帝国憲法(だいにっぽんていこくけんぽう)発布(はつぷ)後に制定(せいど)された衆議院議員選挙法(しゆぎいんぎいんせんきよほう)では、⑩女性(にょせい)には選挙権(せんきよけん)は認め(た)られませんでした。また、治安警察法(じやんげんさつ)で女性(にょせい)の政治活動(せいちかつどう)が禁止(きんじ)されたため、明治時代(めいしじだい)の末期(まき)から大正時代(たいしじだい)に、⑪平塚らいてう(ひらづからいてう)らが『青鞥(せいこう)』という雑誌(ざっし)で女子(じよし)の新しい生き方(あたらひいきかた)を主張(しゆぢやう)し、平塚(ひらづか)や市川房枝(いちがわふさえ)らが、女性(にょせい)の政治参加(せいちさんか)を求め(もと)めた運動(うんどう)を展開(てんかい)しました。

時代(じだい)によって女性(にょせい)の地位(ちゐ)や権利(けんり)がちがっているのがわかります。また、2018年SDGs(2018ねんSDGs)の達成度(たっせいちど)において、日本(にっぽん)では「ジェンダーの平等(へいとう)」の達成度(たっせいちど)がG7(グロウプセブン)(主要7カ国(しゆやくななこく))の中で最下位(さいげいゐ)と低(ひ)くなっています。私たちは、現在(げんざい)の女性(にょせい)に対してあらゆる差別(さべい)をなくすことや、もっと女性(にょせい)が活躍(かつやく)できる社会(しやかい)を築(た)き上げていくことを、考(かんが)えていく必要(ひつや)があります。

問1 下線部①について、あとの問いに答えなさい。

(1) 卑弥呼(ひいこ)が治めていた国(くに)を何(なに)と言(い)いますか。

(2) 卑弥呼の活躍した時代の説明として正しいものを、次のア～エより1つ選び、記号で答えなさい。

- ア 稲作が伝わっていないため、狩りや採集の暮らしをしていた。
- イ 中国の法制度をまねた律令政治が行われていた。
- ウ 土地や水路をめぐる争いが起こったため、環濠集落がつけられた。
- エ 豊かな収穫を祈るため、女性をかたどった土偶がつけられた。

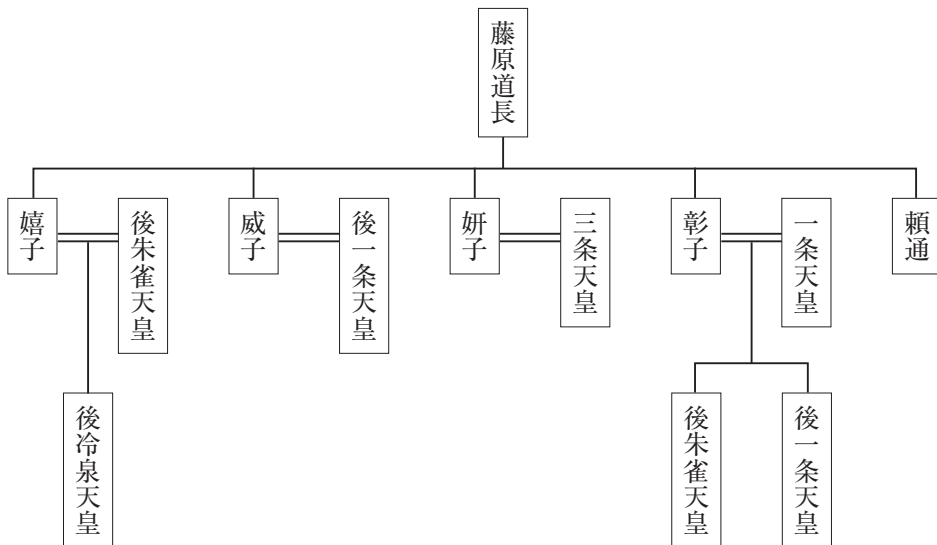
問2 下線部②について、天武天皇が皇后（のちの持統天皇）の病気が治ることを願って建てた寺を、次のア～エより1つ選び、記号で答えなさい。

- ア 法隆寺 イ 薬師寺 ウ 東大寺 エ 唐招提寺

問3 下線部③について、現在天皇の後継ぎ^{あとつぎ}については、皇室典範で定められています。皇室典範の内容として正しいものを、次のア～エより1つ選び、記号で答えなさい。

- ア 天皇の子であれば男子でも女子でも天皇になれる。
- イ 天皇の子に男子がない場合のみ、女子でも天皇になれる。
- ウ 天皇の考えで、男子でも女子でも天皇になれる。
- エ 女性は天皇になれない。

問4 下線部④について、紫式部が仕えた藤原彰子の父親は摂関政治を展開した藤原道長です。道長は権力を手に入れるために、彰子に幅広い教養^{はば}を身につけさせようと、紫式部を家庭教師にやりました。その理由を、次の家系図から読み取れることをふまえて、解答らんの書き出しに続けて説明しなさい。



問5 下線部⑤について、平安時代に活躍した女性文学者の作品として正しいものを、次のア～エより1つ選び、記号で答えなさい。

ア 土佐日記 イ 枕草子 ウ 徒然草 エ 古事記

問6 下線部⑥について、この一連の争いを何とといいますか。

問7 下線部⑦について、次の文章(あ)(い)がこの時代の女性の説明として正しければ○、誤っていれば×をつけなさい。

(あ) 女性が結婚した後に^{みょうじ}苗字を変えず、親の領地を受けつぐこともあった。

(い) 女性が夫の死後に地頭になったり、幕府から領地を与えられることもあった。

問8 下線部⑧について、参勤交代など大名が守るべきことを定めたきまりを何とといいますか。

問9 下線部⑨について、江戸時代の関所では、江戸への鉄砲が持ち込まれることと、大名の妻子が江戸から逃げることをとりしまりました。一方、室町時代では8代将軍足利義政の妻の日野富子はいくつもの関所を設けました。日野富子が関所を設けた理由としてもっとも適切なものを、次のア～エより1つ選び、記号で答えなさい。

ア 応仁の乱が起こっていて、地方から来る敵の侵入を防ぐため。

イ 応仁の乱で戦っている敵が、逃げないようにするため。

ウ 関所を通行する税を取るため。

エ 身元がはっきりしない人を通らせないため。

問10 下線部⑩について、女性に選挙権が認められた時期を、次のア～エより1つ選び、記号で答えなさい。

ア 1900年、直接国税の制限が10円以上に引き下げられた時。

イ 1919年、直接国税の制限が3円以上に引き下げられた時。

ウ 1925年、普通選挙法で、直接国税の制限がなくなった時。

エ 1945年、衆議院議員の選挙法が改正された時。

問 11 下線部①について、次の文章は『青鞥』の創刊号の冒頭の部分です。空らん（ A ）
（ B ）にあてはまる言葉を入れなさい。（同じ記号には同じ言葉が入ります）

元始、女性は実に（ A ）であった。真正の人であった。今、女性は（ B ）
である。他に依って生き、他の光によって輝く、病人のような蒼白い顔の（ B ）
である。

社 会 解答用紙

※らんには何も記入しないこと

1

| | | | |
|----|-----|-----|-----|
| 問1 | (1) | (2) | (3) |
| 問2 | (1) | (2) | |
| 問3 | | | |
| 問4 | (1) | | (2) |
| 問5 | (1) | | (2) |
| 問6 | (1) | (2) | |

| |
|---|
| ※ |
|---|

2

| | | | |
|-----|-----------------------|-----|-----|
| 問1 | (1) | | (2) |
| 問2 | | 問3 | |
| 問4 | 幅広い教養を身につけさせる必要があったのは | | |
| 問5 | | 問6 | |
| 問7 | (あ) | (い) | 問8 |
| 問9 | | 問10 | |
| 問11 | (A) | | (B) |

| |
|---|
| ※ |
|---|

| | |
|---------|-----|
| 受 験 番 号 | 氏 名 |
| | |

| |
|---|
| ※ |
|---|